

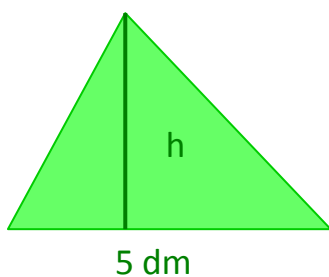
Zadanie

1. Do każdego przykładu zapisz odpowiednie równania:

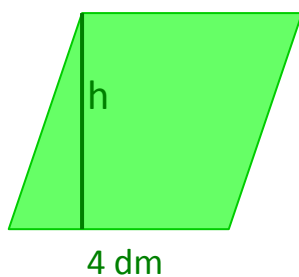
- a) Suma liczby x i 7,3 równa się 9.
- b) Połowa różnicy liczby 5 i y równa się 9,2.
- c) Liczba dwa razy mniejsza od liczby x równa się 15.

2. Pole każdej z poniższych figur równa się 50 dm^2 .
Ułóż odpowiednie równania.

A)



B)

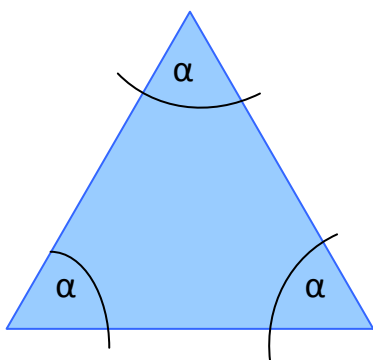


C)

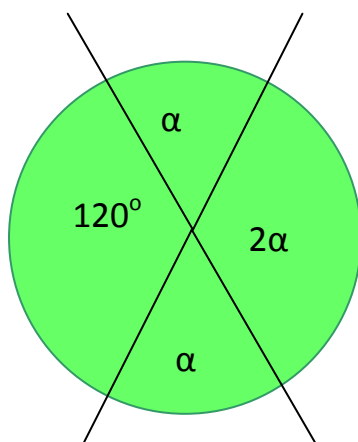


3. Na podstawie rysunków ułóż odpowiednie równania.

A)



B)



C)

